

Plan de travail n°19 – CM₁

Jeudi 30 avril 2020

Corrections* :

- Corrige ton plan n°18

Ces documents sont publiés sur le site de l'école.

① Calcul mental* :

Compétence : passer d'une fraction décimale à un nombre décimal

Consigne : écris le nombre décimal correspondant à chaque fraction décimale

Aides :

$$\text{Exemple 1 : } \frac{15}{10} = \frac{10}{10} + \frac{5}{10} = 1 \text{ unité} + \frac{5}{10} = 1,5$$

$$\text{Exemple 2 : } \frac{85}{10} = \frac{80}{10} + \frac{5}{10} = 8 \text{ unités} + \frac{5}{10} = 8,5$$

$\frac{2}{10}$	$\frac{22}{10}$	$\frac{4}{100}$	$\frac{18}{100}$	$\frac{750}{100}$
0,2	2,2	0,04	0,18	7,50
$\frac{34}{10}$	$\frac{477}{100}$	$\frac{65}{10}$	$\frac{20}{100}$	$\frac{658}{100}$
3,4	4,77	6,5	0,20	6,58

② Dictée bilan :

Ma première dent

J'ai perdu ma première dent à l'âge de huit ans. A la maison, ils ont fêté l'événement comme si c'était un exploit. Moi, pas du tout. Moi, j'avais peur de devenir aussi moche

que beau papa quand il enlève son dentier et j'ai pleuré pendant une heure. Ma mère a sauté sur le téléphone pour alerter ma grand-mère. Je l'ai entendue crier victoire. « Ça y est enfin, disait-elle, il a réussi. » Réussi quoi ? C'est une réussite de perdre une dent.

③ Etude de la langue : le pluriel des noms

Exercices de réinvestissement* :

Exercice n°6 p 129 :

ses chiens - des mois - ces pains - des prix - les voix - mes yeux - tes pieds - nos cousines - des nez - des dentistes - mes joues - les œufs - ces années.

Exercice n°8 p 129 :

- a/ L'enfant joue avec des joujoux.
- b/ Ces cyclistes ont du mal à grimper les côtes.
- c/ Chaque soir, la princesse dépose ses bijoux dans un petit coffre.
- d/ Les prix de ces articles ont beaucoup augmenté depuis l'année dernière.
- e/ Les kangourous sont des mammifères d'Australie.

Apprentissage : le pluriel des noms terminés en _au, _eau, _eu

- Tâche n°1 : Trace écrite
 - Ouvre ton cahier noir partie Orthographe.
 - Ecris en rouge le titre : « Le pluriel des noms terminés en _au, _eau, _eu »
 - Copie le « Je retiens » p 130 et apprends la règle.
- Tâche n°2 : exercices d'appropriation

Exercice 2 p 130

des aveux - des tableaux - des boyaux - des lieux - des joyaux - des neveux - des radeaux - des pneus - des seaux - des milieux - des anneaux - des jeux - des manteaux - des agneaux

Exercice 5 p 131

- a/ Les tuyaux d'arrosage sont rangés dans la cabane au fond du jardin.
- b/ La magasin au coin de la rue vend des landaus de bonne qualité.
- c/ Zeus et Poséidon étaient des dieux de l'Antiquité grecque.
- d/ Les roseaux sont des plantes qui poussent au bord des étangs.
- e/ Les émeus vivent en Australie.

④ Grandeurs et Mesures : Calculer et comparer le périmètre des polygones

Tâche 1 : Mise en situation

Visionne de nouveau la vidéo en cliquant sur le lien ci-dessous.

<https://www.youtube.com/watch?v=06AETokOAWY>

Tâche 2 : Réalise les trois exercices ci-dessous

Exercice 4 p 127

a/

Périmètre de la figure verte : $2 + 3 + 3 + 2 + 2 = 12$ cm

Périmètre de la figure violette : $2 + 2 + 2 = 6$ cm

Périmètre de la figure bleue : $2 + 1 + 1 + 2 + 1 + 3 = 10$ cm

b/ Classement des périmètres du plus petit au plus grand : 6 cm < 10 cm < 12 cm

Exercice 7 p 127

$14 + 6 + 8 + 1 + 6 + 5 = 40$ m

Elle va acheter une longueur de gouttière de 40 m.

Exercice 8 p 127

a/ Ce bâtiment a une forme rectangulaire.

b/ Son périmètre est égal à $26 + 26 + 14 + 14 = 80$ m.

⑤ Géométrie : identifier et construire des triangles

Tâche 1 : Clique sur les liens vidéos ci-dessous :

<https://www.youtube.com/watch?v=NWK920A1lvY>

<https://www.youtube.com/watch?v=8n2i3y47U3o>

Tâche 2 : Relis le « Je retiens » p 170

Tâche 3 : exercices

Exercice 13 p 175

ABC : triangle rectangle

DEF : triangle isocèle

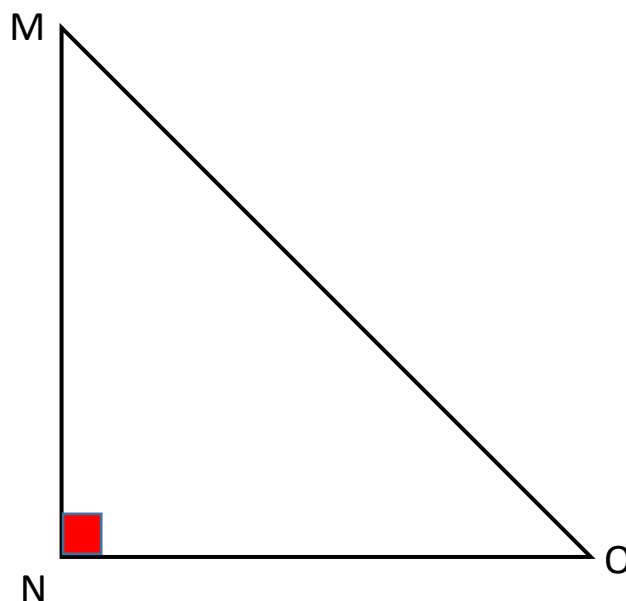
GJK : triangle rectangle isocèle

HIL : triangle quelconque

Exercice 14 p 175

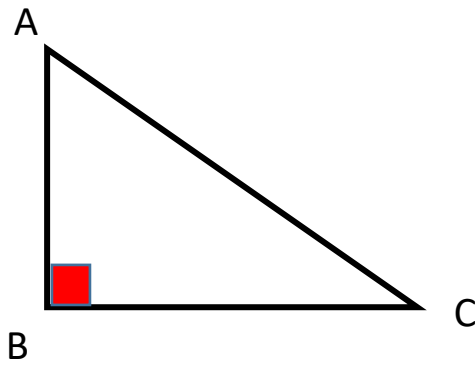
Méthode :

- Je construis un angle droit avec l'équerre.
- J'inscris le point N sommet de l'angle droit.
- Je prolonge ou réduis avec la règle les deux côtés de l'angle pour qu'ils mesurent 7 cm.
- Je trace le troisième côté du triangle.
- J'inscris les points M et O



Exercice 15 p 175

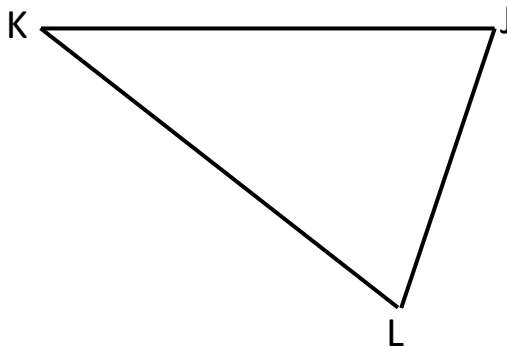
a. Même procédure que dans l'exercice précédent



b. Procédures

Je trace deux segments reliés de 6 cm.
Le point commun est le point K
Je trace le 3^{ième} côté JL en reliant les
deux segments précédents.
J'inscris les points J et L

Je trace un segment [JL] au hasard.
Je prends mon compas, je l'écarte de 6 cm.
Je pique en J et je trace un arc de
cercle.
Je pique en L et je trace un deuxième
arc de cercle.
Le point d'intersection des deux arcs de
cercle est le point K.
Je termine le tracé du triangle.



⑥ Écriture :

Ecris une histoire (sans dialogue) en utilisant tous les mots proposés ci-dessous. Attention les verbes sont à l'infinitif, tu devras les conjuguer. Evite également les répétitions en cherchant un synonyme quand c'est nécessaire. Ton histoire doit comporter un début, un milieu et une fin.

ma sœur et moi – cuisiner – repas – tarte – recette – ingrédients – placards – fouiller – pâte – pétrir – envahir – la cuisine – odeur – succulent – parents

7 Géographie : Ma région : Les Hauts de France

Tâche 1 : Apprendre les fiches n°1, n°2 et n°3 - « Ma région : les Hauts de France »

Tâche 2 : Travail de recherche

Clique sur le fichier « Ma région : les Hauts de France_fiche 4 »

8 Lecture : travail de la fluence (5')

Lecture chronométrée du texte_semaine 2

9 Littérature : « Le chevalier au bouclier vert »

Compétence : lire et comprendre un texte.

Tâche 1 : termine la lecture du chapitre 9.

Tâche 2 : réponds par vrai ou faux aux affirmations ci-dessous.

Chapitre 9 VRAI OU FAUX ?

Barnabé se rend à la foire pour y rencontrer Maître Guillaume

Maître Guillaume est marchand de bijoux

Maître Guillaume propose du travail à Barnabé

Barnabé a gagné 4 livres

Thibaut annonce à Eléonore qu'il part avec le roi Louis

Thibaut vend des épées franques aux infidèles

Thibaut est déshonoré et pleure beaucoup

Thibaut décide de suivre le roi en cachette

Thibaut vient au secours du roi et le délivre des brigands

Malgré cela, Thibaut ne retrouve pas l'amour du roi Louis

Arnaud le Fier est scandalisé par les fourberies de Rosamonde et Foulque

Arnaud le Fier brise son serment de fidélité au seigneur de Moncornet

V	F
X	
	X
X	
X	
X	
	X
X	
X	
X	
	X
X	
X	