





Activités ritualisées: Écris les heures du matin et de l'après-midi pour chaque horloge.

 <p>Matin : 4 h 5 min Après-midi : 16 h 5 min</p>	 <p>Matin : 7 h 15 min Après-midi : 19 h 15 min</p>	 <p>Matin : 11 h 25 min Après-midi : 23 h 25 min</p>	 <p>Matin : 8 h 10 min Après-midi : 20 h 10 min</p>
--	--	--	--

Place les aiguilles selon les heures indiquées.

 <p>Il est 14 h 15 min.</p>	 <p>Il est 22 h 00 min.</p>	 <p>Il est 00 h 00 min.</p>	 <p>Il est 20 h 30 min.</p>
--	--	---	--

Résolutions de problèmes: 2 énigmes à résoudre



La boîte à énigmes ★

17



- A – Combien y a-t-il de pattes de zèbres ?  
B – Si je vois 20 pattes, combien y a-t-il de zèbres ?

- a)  $4 \times 3 = 12$ . Il y a 12 pattes de zèbres.  
b)  $4 \times 5 = 20$ . Si je vois 20 pattes, il y a 5 zèbres ?



La boîte à énigmes ★

18



- A – Combien y a-t-il d'aliments différents ?  
B – Combien y a-t-il d'aliments en tout ?

- a) Il y a 6 aliments différents.  
b)  $2 + 2 + 3 + 5 + 9 + 17 = 38$   
Il y a 38 aliments en tout.