





Activités ritualisées: Compare avec < ou >.

206 < 216 619 > 199 603 < 630 780 < 802 799 > 638
 166 > 156 750 > 507 413 > 383 726 < 753 388 < 801
 354 < 405 274 < 281 813 < 903 149 < 609 107 < 703

Écris les heures du matin et de l'après-midi pour chaque horloge.

 <p>Matin : h min 9h15 Après-midi : h min 21h15</p>	 <p>Matin : h min 11h30 Après-midi : h min 23h30</p>	 <p>Matin : h min 4h00 Après-midi : h min 16h00</p>	 <p>Matin : h min 1h15 Après-midi : h min 13h15</p>
---	--	--	---

Place les aiguilles selon les heures indiquées.

 <p>Il est 5 h 00 min.</p>	 <p>Il est 16 h 00 min.</p>	 <p>Il est 18 h 30 min.</p>	 <p>Il est 7 h 15 min.</p>
--	---	--	--

Résolutions de problèmes: 2 énigmes à résoudre

 <p>La boite à énigmes ★</p>	<p>7</p>	 <p>La boite à énigmes ★</p>	<p>8</p>
 <p>A – Combien de <u>voyageurs</u> transporte un bateau? B – Combien de <u>personnes</u> sont transportées par 3 bateaux ?</p>		 <p>A – Combien y a-t-il de quartiers dans une orange ? B – Combien y a-t-il de quartiers dans la moitié d'une orange ?</p>	

a) Un bateau transporte 4 voyageurs.
 b) $3 \times 4 = 12$. Trois bateaux transportent 12 voyageurs.

a) Une orange contient 10 quartiers.
 b) La moitié d'une orange contient 5 quartiers.