









Activités ritualisées: Écris les heures du matin et de l'après-midi pour chaque horloge.

 <p>Matin : h min midi 12h00 Après-midi : h min minuit 0h00</p>	 <p>Matin : h min 5h15 Après-midi : h min 17h15</p>	 <p>Matin : h min 5h00 Après-midi : h min 17h00</p>	 <p>Matin : h min 7h30 Après-midi : h min 19h30</p>
--	--	---	--

Place les aiguilles selon les heures indiquées.

 <p>Il est 14 h 15 min.</p>	 <p>Il est 22 h 00 min.</p>	 <p>Il est 00 h 00 min.</p>	 <p>Il est 20 h 30 min.</p>
--	--	---	--

Résolutions de problèmes: 2 énigmes à résoudre

	<p>La boite à énigmes ★</p>	<p>9</p>		<p>La boite à énigmes ★</p>	<p>10</p>
 <p>A – Combien faut-il de chiens pour tirer 2 traîneaux ? B – Si j'ai 24 chiens combien puis-je tirer de traîneaux ?</p>			 <p>A – Si je partage ces tomates en deux paquets, combien y a-t-il de tomates par paquet ? B – Combien de paquets de 2 tomates puis-je faire ?</p>		

a) $6 \times 2 = 12$. Pour tirer 2 traîneaux, il faut 12 chiens.
b) $4 \times 6 = 24$. Avec 24 chiens, je peux tirer 4 traîneaux.

a) $7 \times 2 = 14$. Il y aura 7 tomates.
b) Je peux faire 7 paquets de 2 tomates.