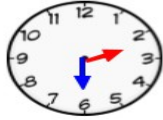


**Activités ritualisées:** Écris la centaine précédente et suivante. exemple: 500 → 536 → 600

600 → 617 → 700      700 → 746 → 800      800 → 878 → 900      500 → 554 → 600  
 400 → 409 → 500      300 → 323 → 400      100 → 181 → 200      200 → 292 → 300

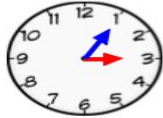
Place les aiguilles selon les heures indiquées.



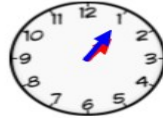
Il est 14H30



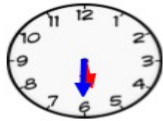
Il est 12H55



Il est 15H05



Il est 13H05

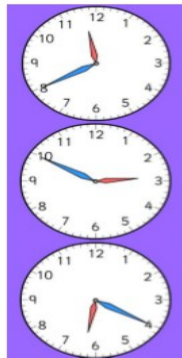


Il est 17H30



Il est 17H40

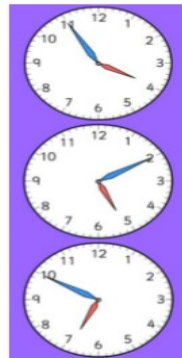
écris l'heure qui correspond à chaque horloge. (Nous sommes l'après-midi ou le soir)



Il est 23 H 40

Il est 14 H 50

Il est 18 H 20



Il est 17 H 55

Il est 17 H 10

Il est 18 H 50

**Résolutions de problèmes:** 2 énigmes à résoudre



La boite à énigmes ★

19

A – Combien y a-t-il d'éléphants ?  
 B – Il manque 18 éléphants pour que tout le troupeau soit là.  
 Quel est le nombre d'éléphants de ce troupeau ?



La boite à énigmes ★

20

A – Combien y a-t-il de roues sur cette remorque ?  
 B – Le camion a 6 roues, combien y a-t-il de roues, quand le camion est avec sa remorque ?



a) Il y a 5 éléphants.  
 b)  $18 + 5 = 23$ . Le troupeau compte 23 éléphants.

a)  $5 \times 2 = 10$  La remorque a 10 roues.  
 b)  $10 + 6 = 16$ . Quand le camion est avec sa remorque, il y a 16 roues.