



Activités ritualisées: Compare avec < ou >.

2064 < 2146 6109 > 1989 6043 < 6430 7880 < 8092 7919 > 6328
 1266 < 1536 7500 > 5107 4153 > 3983 7246 < 7573 3848 < 8019
 3584 < 4075 2764 < 2841 8613 < 9703 1499 < 6089 1027 < 7033

Écris les heures du matin et de l'après-midi pour chaque horloge.

 <p>5 h 40 min 6 heures moins vingt</p>	 <p>4 h 45 min 5 heures moins le quart</p>	 <p>3 h 50 min 4 heures moins dix</p>	 <p>6 h 35 min 7 heures moins vingt-cinq</p>
--	---	---	---

Place les aiguilles selon les heures indiquées.

 <p>13 h 40 min</p>	 <p>8 heures moins vingt-cinq</p>	 <p>2 heures moins le quart</p>	 <p>15 h 55 min</p>
---	---	--	---

Résolutions de problèmes: 2 énigmes à résoudre

 <p>La boîte à énigmes ★★</p>	<p>7</p>	 <p>La boîte à énigmes ★★</p>	<p>8</p>
 <p>A-Quelles sont les deux formes géométriques que tu reconnais sur ces boulons ? B-Il faut 2 boulons pour chaque vis de la balance. Or il y a 15 vis. Combien de boulons va-t-il falloir ?</p>		 <p>Recette pour 10 biscuits : 100g de farine 2 œufs +mélange préparé</p> <p>A-Combien faudra-t-il de farine et d'œufs pour faire 20 biscuits ? B- Combien faudra-t-il de farine et d'œufs pour faire 15 biscuits ?</p>	

a) cercle et hexagone
 b) $15 \times 2 = 30$. Il faut 30 boulons.

a) Il faudra 200 grammes de farine et 4 œufs.
 b) Il faudra 150 grammes de farine (100+50) et 3 œufs.




Activités ritualisées: Compare avec < ou >.

206 < 216 619 > 199 603 < 630 780 < 802 799 > 638
 166 > 156 750 > 507 413 > 383 726 < 753 388 < 801
 354 < 405 274 < 281 813 < 903 149 < 609 107 < 703

Écris les heures du matin et de l'après-midi pour chaque horloge.

 <p>5 h 40 min 6 heures moins vingt</p>	 <p>4 h 45 min 5 heures moins le quart</p>	 <p>3 h 50 min 4 heures moins dix</p>	 <p>6 h 35 min 7 heures moins vingt-cinq</p>
--	---	---	---

Place les aiguilles selon les heures indiquées.

 <p>13 h 40 min</p>	 <p>8 heures moins vingt-cinq</p>	 <p>2 heures moins le quart</p>	 <p>15 h 55 min</p>
---	---	--	---

Résolutions de problèmes: 2 énigmes à résoudre

 <p>La boîte à énigmes ★</p>	<p>7</p>	 <p>La boîte à énigmes ★</p>	<p>8</p>
 <p>A – Combien de <u>voyageurs</u> transporte un bateau? B – Combien de <u>personnes</u> sont transportées par 3 bateaux ?</p>	 <p>A – Combien y a-t-il de quartiers dans une orange ? B – Combien y a-t-il de quartiers dans la moitié d'une orange ?</p>		

<p>a) Un bateau transporte 4 voyageurs. b) $3 \times 4 = 12$. Trois bateaux transportent 12 voyageurs.</p>	<p>a) Une orange contient 10 quartiers. b) La moitié d'une orange contient 5 quartiers.</p>
--	--